

6.
SINIF

5'Li
DENEME

SAYISAL
BÖLÜM

SÖZEL
BÖLÜM

PYBS

Parasız Yabllık ve
Bersuluk Sınavına
ygyundur.

Deneme	... tarihine kadar olan konular içerir.
1. Deneme	05 Ocak
2. Deneme	09 Şubat
3. Deneme	22 Mart
4. Deneme	10 Mayıs
5. Deneme	Genel



MOBİL OPTİK OKUMALI

ELIYEN
ZKA

6. SINIF DENEME SINAVI

SÖZEL BÖLÜM

1.
Deneme

1. OTURUM

DERS ADI	SORU SAYISI	TOPLAM SORU SAYISI	SINAV SÜRESİ (DAKİKA)
Türkçe	20	50	75
Sosyal Bilgiler	10		
Din Kültürü ve Ahlak Bilgisi	10		
Yabancı Dil (İngilizce)	10		

AÇIKLAMA

1. Bu kitapçıkta 6. sınıf sözel bölüm testi bulunmaktadır.
2. Bu kitapçıkta testlerde yer alan her sorunun yalnızca bir doğru cevabı vardır.
3. Cevap kâğıdı üzerindeki kodlamaları kurşun kalemle yapınız.

Adı :

Soyadı :

Sınıfı / Şubesi :

Öğrenci No :



Bu testte 20 soru vardır. Cevaplarınızı cevap kâğıdına işaretleyiniz.

1. • Önüne katıp götürmek
• Uzatmak, ileri doğru itmek
• Dokundurmak, değdirmek
• Herhangi bir durum içinde bulunmak

Aşağıdaki cümlelerin hangisinde “sürmek” kelimesi verilen anlamlardan biriyle kullanılmıştır?

- A) Köyün çobanı, sabahın erken saatlerinde koyunları yaylaya doğru sürüyordu.
B) Kahveyi ısıtıyor, suyu dolduruyor, cezveyi sü-rüyor, fincanı boşaltıyor.
C) Toplantı beklediğimizden daha uzun sürmüştü.
D) Yüzümü saçlarına sürmek için başımı eğdim.

2. I. kayayı delen
II. damlaların sürekliliğidir
III. akarsa aksın
IV. su ne kadar kuvvetli
V. suyun gücü değil

Yukarıda verilen söz gruplarından anlamlı ve kurallı bir cümle oluşturulmak istense doğru sıralama nasıl olur?

- A) IV - III - I - V - II B) I - II - III - IV - V
C) V - II - I - IV - III D) III - IV - II - V-I

3. Köy yolunda ilerlerken tanımadığım bir adam
I
bana selam verdi. Sonradan öğrendim ki bu
II
adam, babamın çok eski bir dostuymuş. Uzun za-
III
mandır babamı ziyarete gelmeyi düşünüyormuş
ama bir türlü fırsat bulamamış. Kısmet bugüneymiş.
IV

Yukarıdaki metinde altı çizili kelimelerden hangileri aynı türdedir?

- A) I ve II. B) II ve IV.
C) I ve III. D) III ve IV.

4. Deyimler, genellikle gerçek anlamından uzaklaşmış, kendine özgü bir anlam taşıyan, anlatılanları daha zengin ve etkileyici kılmak amacıyla söylenen ve en az iki kelimedenden oluşan kalıplaşmış, özlü söz gruplarıdır.

Buna göre aşağıdaki cümlelerin hangisinde deyim kullanılmamıştır?

- A) İhtiyar adamın hikâyesini kahvede bulunan herkes can kulağıyla dinliyordu.
B) Konuştuklarımız bir kulağından giriyor bir kulağından çıkıyordu.
C) Ağacın gölgesinde oturmak, sıcaklığın altında çalışmaktan daha iyiydi.
D) Çok sevindirici bir haber almış olacak ki mutluluktan ağız kulaklarına varıyordu.

5. “Yazılarındaki anlaşılmaz, insanı yoran uzun cümlelerin düzeltilmesiyle geniş okur kitlesine ulaşılabilir.” cümlesinde bir eylemin gerçekleşmesi koşula bağlanmıştı.

Verilen açıklamaya göre aşağıdaki cümlelerin hangisinde bunu örneklendiren bir kullanım vardır?

- A) Geç kaldığını anlayan genç kız adımlarını sıklaştırdı.
B) İşimizi gün batımından önce bitirdiğimizde köylülerin takdirini toplarız.
C) Karşıdan karşıya geçen yaşlı adama yardım etmek için arkadaşlarını bekletti.
D) Her zaman beni destekleyen, her anımda yanımda olan dostlarıma minnettarım.

6.

Memleketim

Memleketim ne kadar geniş: dolaşmakla bitmez tükenmez gibi geliyor insana.

Edirne, İzmir, Ulukışla, Maraş, Trabzon, Erzurum.

Erzurum yaylasını yalnız türkülerinden tanıyorum ve güneye pamuk isleyenlere gitmek için

Toroslardan bir kere olsun geçemedim diye utanıyorum.

Nazım HİKMET

Yukarıda verilen şiirin konusu nedir?

- A) Memleket sevgisi
C) Umutsuz bekleyiş

- B) Yaylalara çıkış
D) Anadolu yaşamı

7. Gelmiş geçmiş topluluklar içerisinde tarihsel ve diğer açılardan en ilginç topluluk hiç şüphesiz Aztekler'dir. Bu topluluk, Yeni Dünya'nın en küçük topluluğu ve aynı zamanda uygarlığa en geç kavuşan halkı olmasına karşın kısa sürede yörenin egemeni olmuştur. İmparatorluk kurup, çağın uygarlığının temsilcisi olmuşlardır. Oğuz boylarının yerleşip uygarlaşmak üzere Anadolu'ya geldikleri aynı tarihlerde Aztekler de güneyden gelerek Meksika Vadisi'ne girmişlerdir. Buradaki Texcoco Gölü kıyılarında tutunup yerleşmeye başlamışlardır.

Bu metinde Aztekler ile ilgili aşağıdakilerden hangisine değinilmemiştir?

- A) Tarihte yaşamış en ilginç topluluklardan olduğuna
B) Uygarlığa en geç girmelerine karşılık kısa sürede egemen toplum olduğuna
C) Tarihte birçok ilke imza atan topluluk olduğuna
D) Oğuz boylarının Anadolu'ya geldiği yıllarda Meksika Vadisi'ne girmişlerdir.

8.

4.Sarıyer Edebiyat Günleri ve Öykü Yarışması

Herkesin Bir Öyküsü Var

1. KATEGORİ
Ortaokul
(10-14 yaş)

2. KATEGORİ
Lise
(15-19 yaş)

3. KATEGORİ
Yetişkinler Kategorisi
(Ortaokul ve Lise öğrencisi olmayan 18 yaş ve üzeri)

Son başvuru tarihi:
3 Nisan 2015

8 Mayıs'ta sonuçlarının açıklanacağı yarışmanın ödülleri bu yıl 4-5ü 15-16-17 Mayıs tarihlerinde düzenlenecek olan Sarıyer Edebiyat Günleri'nde sahiplerini bulacak.

Detaylı bilgi için;

Bu verilen afişten yola çıkılarak aşağıdakilerden hangisine ait bilgi edinilemez?

- A) Yarışmanın kimlere yönelik olduğu
B) Ne zamana kadar başvurulabileceği
C) Sonuçların ne zaman açıklanacağı
D) Dereceye girenlere hangi ödüllerin verileceği

9. “Ses verin bana sarp kayalar, yüksek tepeler.” cümlesinde “sarp ve yüksek” sözcükleri isimleri etkilediğinden sıfat olmuştur.

Görüldüğü gibi isimleri değişik yönlerden niteleyen veya belirten sözcüklere sıfat denir.

Buna göre,

Ben oradan geçerken biri:

“Amca, dese, gir içeri.”

Girip yerden selâmlasam hane içindekileri.

Eski takvim hesabıyla bu sabah başladı bahar.

Geri geldi Memed’ime yolladığım oyuncaklar.

yukarıda verilen mısralarda kaç sıfat (önad) kullanılmıştır?

- A) 2 B) 3 C) 4 D) 5

10. Göktürk devletinin ünlü hükümdarı Bilge Kağan Dönemi’ne ait 6 adet yazılı ve dikili anıtlardır. Bu önemli eserlerden 3 tanesi çok önemlidir. Kül Tigin, Bilge Kağan ve Tonyukuk. Bu eserler Türk dili, edebiyatı, tarihi ve sanatı konusunda birçok bilgiyi bizlere sunmaktadır. Türkçe adı ilk kez bu eserlerde yer almış ve bu anlamda da tarih açısından önemli değerler arasına girmeyi başarmıştır.

Bu metinde numaralanmış kelimelerden hangisi birden fazla yapım eki almıştır?

- A) I B) II C) III D) IV

11. I. El elin eşeğini türkü söyleyerek arar.
II. Rüzgâr eken fırtına biçer.
III. Her koyun kendi bacağından asılır.
IV. Ayağını yorganına göre uzat.

Yukarıda verilen atasözlerinden hangileri aynı doğrultudadır?

- A) I ve II. B) I ve III.
C) II ve IV. D) III ve IV.

12. Müzik notalardan meydana gelir ve onları yani notaları ortaya çıkararak melodi veya ritim herkesi etkileyebilir. Millet ayrımı olmaksızın herkese hitap edebilir bir melodi. Çoğu zaman sözlerinden hiçbir şey anlamamıza rağmen başka dillerdeki söylenmiş şarkıları sırf tınısı kulağımıza hoş geldiği için bizim hoşumuza gider ve dinleriz, işte budur müziğin evrenselliği.

Bu metinle ilgili aşağıdakilerden hangisi yanlıştır?

- A) “bizim” kelimesi 1. çoğul kişi zamiridir.
B) “herkes” kelimesi belgisiz zamiridir.
C) “-ki” bu metinde ilgi zamiri yapan “-ki” ekidir. *
D) “onları” kelimesi işaret zamiridir.

13. **Aşağıdaki dizelerin hangisinde tezat sanatına örnek gösterilebilir?**

- A) Bülbül gibi her dem sabah
Durmaz Veysel çeker ah ah
B) Tohumu kurtarır bekler yağmuru
Gider gelir bakar tarlası kuru
C) Koyun kurt ile gezerdi
Fikir başka başka olmasa
D) Kötülükler memlekete kök saldı
Fitnelik fesatlık arttı çoğaldı



14 ve 15. soruları aşağıdaki metne göre yanıtlayınız.

Cumhuriyet Dönemi'nde birçok sanatçıyı etkisi altına alan "Toplumcu Gerçekçi" sanat anlayışı etrafında yapıtlar oluşturan Samim Kocagöz, eserlerinde özellikle hikâyelerinde Ege ve çevresinde yaşayan insanların sorunlarını anlatır. Yazar Muğla'nın Söke beldesinde doğduğundan hikâyelerin konularını, yaşadığı Söke çevresinden ve Menderes vadisinin toprak sorunlarından almıştır. Alışılmış anlatım tekniklerine bağlı kalarak sınıflar arası farkları, ekonomik gerekçelerle değişen dünya görüşlerini inceler.

"Yağmurdaki Kız" adlı yapıtıyla 1967'de Türk Dil Kurumunun Hikâye Ödülünü kazanmıştır. Bu yapıtında da değişen insan ilişkilerine eleştirel bir dille ortaya koymuştur. Sonraki dönemlerinde roman yazmayı deneyen yazar, "Kocagöz" adlı yapıtını kaleme almıştır. Bu yapıtında Kurtuluş Savaşı'nı belgesel roman tarzında, desantsı bir anlatımla işlemiştir. Genel olarak romanlarında, hikâyelerinde olduğu gibi köylülerin toprak sorununu dile getirmiştir. Ayrıca toprağı hiç olmayan ya da az olan kesimin ilerleyen teknoloji karşısında içine düştüğü sıkıntıyı "Bir Karış Toprak" romanında, "İzmir'in İçinde" adlı romanında ise 1960 Hareketi öncesi oluşan toplumsal karışıklığı, çeşitli kesimlerden seçtiği kahraman kadrosu aracılığıyla gözler önüne serer.

14. Metinde altı çizili söz grubuyla yazarın hangi yönü anlatılmak istenmiştir?

- A) Herkesten farklı bir yolunun olduğuna
- B) Üslubunun herkesle aynı olduğuna
- C) Eserlerinin her kesim tarafından beğenildiğine
- D) Anlatımında zorlayıcı ifadelerin olduğuna

15. Bu metinde Samim Kocagöz ile ilgili olarak aşağıdakilerden hangisine değinilmemiştir?

- A) Edebiyatımızda köy gerçeklerini anlatan ilk yazar olmuştur.
- B) Romanlarında hikâyelerinde olduğu gibi köylülerin toprak sorununu dile getirmiştir.
- C) Eserlerin konularını yaşadığı çevreden ve Menderes vadisinin toprak sorunlarından almıştır.
- D) Toplumcu Gerçekçi bir sanat anlayışı etrafında yapıtlar oluşturmuştur.



16. İsim, canlı cansız bütün varlıkları karşılayan sözcüklerin genel adıdır. Fiilden farkı “-mak, -mek” mastar eki alamamasıdır.

Buna göre aşağıdaki altı çizili kelimelerden hangisi isim değildir?

- A) Otobüs terminale beklediğimizden daha erken bir vakitte vardı.
 B) Çocuğun bakışları her zamanki gibi içten ve sıcaktı.
 C) Üstündeki yıllardır giyildiği çok belli olan yıpranmış bir elbiseydi.
 D) İki yüzden fazla eseri olan, oldukça üretken bir yazardı.

17. Güneşin batmasına rağmen ortalık yine sıcaklığını hissettiriyordu. Bu güzel havanın verdiği rahatlıkla sokakları ağır ağır adımlıyordu. Uzun zamandır görmediği, eski bir dostunu görünce onunla tatlı bir sohbe başladı. Öyle çok zaman geçmişti ki üzerinden adeta yüzünü bile unutmuştu. Birden evlerden yayılan mis gibi yemek kokuları, tatlı sohbetlerini bölüvermişti. Bunun sebebi, yoğun bir iş temposunun ardından yorgun bir bedeninin olmasıydı. Dostuyla biraz sohbet ettikten sonra evinin yolunu tuttu.

Bu metinde aşağıdaki duyulardan hangisinde ait bir ayrıntıya yer verilmemiştir?

- A) Görme
 B) Tatma
 C) Dokunma
 D) Koklama

18. Kasabanın eğri büğrü yollarından geçerek ulaştık misafir olacağımız eve. Her baktığım yerin tarihi dokusunun korunduğunu farkettim. Eve geldiğimizde herkezin bize nazik davranması dikkatimizi çekmişti. Yanlış evin en küçüğü bir az tedirgin görünüyordu.

Bu metinde kaç yazım yanlışı bulunmaktadır?

- A) 3
 B) 4
 C) 5
 D) 6

19. Bozdağlar, Ege Bölgesi'nde denize dik bir vaziyette uzanmaktadır () Karşısında aydın dağları, eteklerinde Küçük Menderes Ovası () Yüksekliği fazla olmamakla birlikte yılın ilk karı Bozdağlara düşer () Karın yağmasıyla da muhteşem bir güzelliğe kavuşur () Bu güzelliği kim görmek istemez ki ()

Bu metinde boş bırakılan yerlere sırasıyla aşağıdaki noktalama işaretlerinden hangileri getirilmelidir?

- A) (.) (.) (.) (.) (?)
 B) (.) (...) (.) (.) (?)
 C) (:.) (.) (.) (...) (.)
 D) (;) (.) (.) (.) (!)

20. Bir iş yerinde çalışan Hasan, Zeynep, Kadir, Aslı ve Ceren arkadaşlırlar. Öğle tatilinde yemek için bir restorana giderler. Restoranda kuru fasulye, çoban kavurma, kızartma, çorba ve haşlama et bulunmaktadır. Bu arkadaşların yedikleri yemekler ile ilgili bilinenler şunlardır:

- Herkes farklı yiyecekler yemiştir.
- Ceren sadece kuru fasulye yemiştir.
- Hasan ve Zeynep aynı şeyleri yememiştir.
- Aslı tercihini kızartmadan yana kullanmıştır.
- Kadir çoban kavurmayı tercih etmiştir.

Bu bilgilere göre aşağıdakilerden hangisi kesin olarak söylenebilir?

- A) Yemeklerin hepsi oldukça lezzetlidir.
 B) Zeynep haşlama et veya çorba alabilir.
 C) Kadir diğer yemekleri beğenmediğinden çoban kavurma almıştır.
 D) Ceren kuru fasulyeyi diğerlerine göre daha çok sevmektedir.

Türkçe testi bitti.

Sosyal bilgiler testine geçiniz.

1. Deneme

SOSYAL BİLGİLER

Bu testte 10 soru vardır. Cevaplarınızı cevap kâğıdına işaretleyiniz.

1. Cahiliye Dönemi'nde Arap Yarımadası'nın dinî, kültürel, ekonomik, hukuki ve siyasi durumu şöyleydi: İnsanlar putları Allah'a ortak koşarlardı. Bazı durumlarda helvadan yaptıkları putlara bile taparlardı, acıkınca bu putları yerlerdi. Her türlü kötü davranış yaygındı. Can ve mal güvenliği yoktu. Okuma yazma çok yaygın değildi. Kadını önemsemeyen Araplar arasında kız çocuklarını diri diri toprağa gömenler olurdu. Kadınlara miras verilmezdi. İnsanların bir kısmı köle olarak çalıştırılırdı. Aralarında Hz. Muhammed'in de bulunduğu Mekke'nin ileri gelenleri "Hilfu'l-Fudûl" adı verilen bir topluluk oluşturdu. Bu topluluk Mekke'de zulme uğramış mazlumlara yardım etme ve zalimlerle mücadele etme kararı aldı. Hz. Muhammed ve ona inanmış Müslümanlar, İslamiyet'i anlatmaya başlayınca puta tapan Mekkeliler buna tepki gösterdiler. Müslümanlara baskı uygulamaya başladılar. Zor durumda kalan Müslümanlar, önce Habeşistan'a sonra da Medine'ye göç ettiler.

Bu bilgilere bakılarak Arap Yarımadası'nın durumuyla ilgili aşağıdakilerden hangisi söylenemez?

- A) İslamiyet öncesi Arap Yarımadası'nda okur yazar oranı yüksektir.
B) İslamiyet öncesinde putlara tapmak yaygındı.
C) Hz. Muhammed ve etrafındaki bazı kişiler toplumsal düzendeki karışıklıkların karşısında durmuşlardır.
D) Hz. Muhammed'in İslamiyet'i insanlara anlatmaya başlaması bazı Mekkelilerin tepkisine neden olmuştur.
2. Türkiye fındık üretiminde Avrupa'nın önde gelen ülkelerinden biridir.



Ülkemizde fındık üretimi ile ilgili tesis kurmak isteyen birinin yukarıdaki numaralı bölgelerden hangisinde çalışma yapması daha uygundur?

- A) I. B) II. C) III. D) IV.

3. Görevlerimiz ya da toplumun bizden beklediği davranışlar olarak ifade edebileceğimiz roller çok çeşitli olabilir. Bu çeşitliliği gün içerisinde dahi yaşayabiliriz. Örneğin Salim Bey, gün boyu doktor rolünü üstlendikten sonra akşam pazara uğradığında müşteri rolündedir. Evine geldiğinde ise karısına karşı eş, çocuklarına karşı baba rolündedir. Evlerine misafir gelirse o anki eş ve baba rolüne ek olarak bir de ev sahibi rolünü de üstlenir.

Bu bilgilere göre rollerimizle ilgili,

- I. Bulduğumuz ortamlara göre değişkenlik gösterebilir.
II. Bir kişi toplumsal hayatta farklı roller üstlenebilir.
III. Üstleneceğimiz rollerin sayısı hak ve sorumluluklarımızı azaltmaktadır.

yargılarından hangileri söylenebilir?

- A) Yalnız I. B) I ve II.
C) II ve III. D) I, II ve III.

4. Ön yargının, ayrımcılığın ve çatışmanın azalmasını istiyorsak toplumsal temas artırılmalıdır. İnsanlar arasındaki iletişim ve duygusal bağ güçlendirilmelidir. Bunun yanında empati ve karşılıklı saygı anlayışı da geliştirilmelidir. Ön yargıların azalması; toplumsal uyumun, birlik ve beraberliğin kuvvetlenmesini sağlayacaktır. Ön yargı hem bireysel hem de toplumsal bir sorundur. Bireysel olarak değerlendirdiğimizde ön yargı, bireyin insanlarla iletişimini, arkadaşlık ilişkilerini ve topluma uyumunu olumsuz etkilemektedir. İnsanlar hakkındaki ön yargılar ve olumsuz tecrübeler farklı inanç, mezhep ve kültürlere karşı kalıp yargı oluşmasına sebep olabilir. Kalıp yargı günlük hayatta karşılaştığımız sorunlardan biridir. Kalıp yargılar toplumsal uyumu olumsuz yönde etkiler.

Buna göre ön yargılarla ilgili olarak aşağıdakilerden hangisi söylenemez?

- A) Bireyler arasındaki etkileşim ön yargıların ortaya koyduğu olumsuzlukları giderebilir.
B) Birlik ve beraberliğin güçlü olduğu toplumlarda ön yargının etkisi azdır.
C) Ön yargı insanların diğer bireylerle olan ilişkilerine zarar vermektedir.
D) Bireysel farklılıklara saygı göstermek için ön yargılı davranılmalıdır.



5. Orta Asya'da kurulan Asya Hun Devleti tarihte bilinen ilk Türk devletidir. Devletin bilinen ilk hükümdarı Teoman'dır. Teoman'ın oğlu Mete Han, Orta Asya'da siyasi hâkimiyeti sağladıktan sonra Çin topraklarına doğru akınlara başlamıştır. Çinliler, Türk akınlarını durdurabilmek için Çin Seddi'ni yapmışlardır. Mete Han, Çin Seddi'ni kolayca aşarak Çin imparatorunu yıllık vergiye bağlamıştır. Mete Han bunu on, yüz, bin gibi bölümlere ayırdığı disiplinli ordusu sayesinde başarmıştır. Oluşturduğu bu "onlu sistem" günümüze kadar gelmiş ve dünyadaki birçok devlete örnek olmuştur. Mete Han, Orta Asya'da Türk birliğini sağlamış, birçok yabancı kavmi kendi hükümlerine altına almıştır. Kahramanlıkları ve hizmetleriyle Türk milletinin hafızasına kazanmıştır.

Bu bilgilere göre Mete Han ile ilgili,

- I. Disiplinli bir askerî teşkilatlanma oluşturmuştur.
- II. Çin'e karşı başarılı seferler gerçekleştirmiştir.
- III. Oluşturduğu askerî sistemin kullanımı kendi dönemiyle sınırlı kalmıştır.

yargılarından hangilerine ulaşılabilir?

- A) Yalnız I. B) I ve II.
C) II ve III. D) I, II ve III.

6. Ülkemizin güneyinden kuzeyine doğru gidildikçe güneş ışınlarının geliş açısı daralır. Bundan dolayı güneyden kuzeye doğru sıcaklık değerleri de azalır. Dağlarımızın güney yamaçları güneşe dönük olduğu için daha sıcaktır. Bu durum dağların güney yamaçlarında nüfus ve yerleşmenin artmasına, meyve ve sebzelerin erken olgunlaşmasına neden olur. Ayrıca ülkemize doğru kuzeyden esen rüzgârlar sıcaklığı düşürürken, güneyden esen rüzgârlar ise sıcaklığı artırır.

Bu sonuçları ortaya koyan gelişme aşağıdakilerden hangisiyle açıklanabilir?

- A) Dünya'nın Güneş etrafında hareket etmesiyle
B) Türkiye'nin özel konumuyla
C) Türkiye'nin matematik konumuyla
D) Paralellerin boylarının kutup noktalarında birleşmesiyle

7.

Doğudan Gelen Tehlike: Moğollar

Alâeddin Keykubad döneminde Konya, Kayseri gibi şehirlerin etrafı Moğol tehdidine karşı surlarla çevrilmiştir. Diğer Müslüman devletlerle birlikte hareket etmek için girişimlerde bulunulmuştur. Fakat alınan tedbirler bu tehlikenin önlenmesinde yeterli olmamıştır. Aâeddin Keykubad'ın ölümü üzerine Moğolların Anadolu'daki tehditleri giderek artmıştır. Selçuklu ordusu ile Moğol ordusu Sivas yakınlarındaki Köseadağ mevkiinde karşılaşmıştır. Köseadağ Savaşı'nı Moğollar kazanmış ve sonucunda Anadolu'da merkezî otorite zayıflamıştır. Moğol baskısından kaçan Türkmenler Anadolu'nun batısına doğru giderek bölgedeki Türk nüfusunun artmasını sağlamıştır.

Bu bilgilere bakılarak Moğol tehdidiyle ilgili olarak aşağıdakilerden hangisi söylenemez?

- A) Türkiye Selçuklu Devleti Moğol tehdidine karşı önlem almaya çalışmıştır.
B) Türkiye Selçuklu Devleti Moğollar ile giriştikleri mücadeleyi kaybetmeleriyle Anadolu üzerindeki hakimiyetleri zayıflamaya başlamıştır.
C) Moğol tehdidine karşı Türkler birleşerek mücadele etmişler ve başarılı olmuşlardır.
D) Moğolların Anadolu üzerindeki baskıları Anadolu'da merkezi otoritenin zayıflamasına neden olmuştur.

8. Anadolu'da toplumsal birlikteliğimizin güçlenmesine Hacı Bektaş-ı Veli, Yunus Emre, Mevlâna Celâleddin-i Rûmî gibi kişiler önemli katkı sağlamıştır.

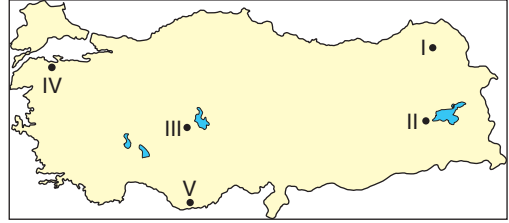
Bu kişiler;

- I. sözleri ile,
II. eserleri ile,
III. fikirleri ile

özelliklerinden hangileri ile millî kültürümüze katkı sağlamışlardır?

- A) Yalnız II. B) Yalnız III.
C) I ve II. D) I, II ve III.


9. Malazgirt zaferinden sonra Anadolu'da Türk Beylikleri Dönemi başlamıştır. Çaka Beyliği, Saltuklular, Artuklular, Danişmentliler bu beyliklerden bazılarıdır. Türk beylikleri fetihler yaparak Anadolu'nun Türklere yurt olmasına katkıda bulunmuşlardır.



Haritada verilen I numaralı bölgede kurulan beylik aşağıdakilerden hangisidir?

- A) Mengücekliler B) Artuklular
C) Saltuklular D) Danişmentliler

10.



Verilen görselde aşağıda açıklamaları verilen yer şekillerinden hangisi yer almamaktadır?

- A) Dört tarafı sularla çevrili olan kara parçasıdır.
B) Karaların üzerindeki çukurlukları dolduran tatlı ya da tuzlu su kütesidir.
C) Çevresine göre yüksekte kalmış ve akarsular tarafından derin olarak yarılmış geniş düzlüklerdir.
D) Çevresine göre yüksek ve belli bir doruğu olan yeryüzü şeklidir.

Sosyal bilgiler testi bitti.

Din kültürü ve ahlak bilgisi testine geçiniz.



Bu testte 10 soru vardır. Cevaplarınızı cevap kâğıdına işaretleyiniz.

1. Bir kişi, beş vakit namazı kılarken; iki defa Sübhâneke duasını, dört defa Fâtiha suresini, dört defa kısa bir sure veya ayetlerden okuduğunu, sekiz kez secde ettiğini, ikişer kez Tahiyat, Salli Bârik dualarını, bir kez Rabbenâ dualarını okuduğunu söylüyorsa bu kişi beş vakit namazın hangi bölümünü kılmıştır?

- A) Öğle, ikindi veya yatsı namazlarından birisinin farzını
- B) Öğle namazının ilk sünnetini
- C) İkinci namazının sünnetini ya da yatsı namazının ilk sünnettir.
- D) Yatsı namazının son sünnetini

2. Peygamberimiz çocukluğundan beri herkes tarafından sevilirdi. Kendisine güvenilirdi. Mekkeli Müşrikler çok önemli eşyalarını O'na teslim ederdi. O, (s.a.v.) yalan söylemezdi. Doğru ve dürüsttü. Çocukluğundan beri hiçbir günah işlemedi. O, (s.a.v.) akıllı, zeki ve ileri görüşlüydü. Allah'tan aldığı vahiyleri insanlara eksiksiz ulaştırır, açıklar ve yaşayarak örnek olurdu.

Peygamberlerin beş özelliği yukarıdaki metinde anlatılmış olup sırasıyla hangisinde doğru olarak verilmiştir?

- A) Emanet – Sıdk – İsmet – Fetanet – Tebliğ
- B) Fetanet – Emanet – Tebliğ – İsmet – Sıdk
- C) Emanet – İsmet – Sıdk – Fetanet – Tebliğ
- D) Sıdk – İsmet – Emanet – Fetanet – Tebliğ

3. Mustafa Öğretmen aşağıdaki tabloyu tahtaya çizerek öğrencilerden verilen namazları farz, vacip ve nafîle olma durumlarına göre sınıflandırmalarını istemiştir.

Merve ise tabloda bazı namazların durumunu işaretlemiş ancak numaralandırılan namazları arkadaşı Mert'in yapması için boş bırakmıştır.

Namaz Çeşitleri	Farz	Vacip	Nafîle
Vitir Namazı ①			
Cenaze Namazı ②			
Sabah, Öğle, İkinci, Akşam, Yatsı Namazı	x		
Kurban ve Ramazan Bayram Namazı ③			
Şükür Namazı			x
Beş Vakit Namazın Sünnetleri ④			
Teravih Namazı ⑤			
Tesbih Namazı			x
Teheccüd Namazı			x
Cuma Namazı	x		

Buna göre Mert numaralanan namazlarda sırasıyla hangilerine işaret koyarsa sınıflandırmayı doğru yapmış olur?

- A) Farz – Vacip – Vacip – Nafîle – Farz
- B) Vacip – Farz – Vacip – Nafîle – Nafîle
- C) Nafîle – Nafîle – Vacip – Nafîle – Farz
- D) Vacip – Farz – Vacip – Nafîle – Farz

4. X: Tevrat; Hz. Musa'ya (a.s.) gönderilen ilahî kitabın adıdır. Dili İbranicedir.
Y: Zebur; Yüce Allah'ın Hz. Davud'a (a.s.) gönderdiği kitabın adıdır. İlk gönderilen ilahi kitaptır.
Z: Kur'an-ı Kerim; Yüce Allah'ın gönderdiği ilahî kitapların sonuncusudur. Son peygamber Hz. İsa'ya (a.s.) Arapça olarak indirilmiştir.
- X, Y ve Z ifadeleri için yapılan aşağıdaki değerlendirmelerden hangisi doğrudur?**
- A) X ve Y doğru, Z ise yanlıştır.
B) Y doğru, X ve Z yanlıştır.
C) X doğru, Y ve Z yanlıştır.
D) Z ve Y doğru, X yanlıştır.

5. • Allah (c.c.), Hz. Adem ve eşini cennetteyken imtihana mı tabi tutmuştur?
• Hz. Adem ateşten mi yaratılmıştır?
• Bütün insanlar Hz. Adem'in çocukları mıdır?
• Hz. Adem ve eşini yasaklı ağaçtan yemeleri için kandıran kişi İblis midir?

Burada verilen her doğru cevap 20 puan değerindedir.

6. Sınıf öğrencisi Hülya yukarıdaki soruların tümüne "Evet" diyerek cevap verdiğine göre toplam kaç puan almıştır?

- A) 20 B) 40 C) 60 D) 80

6. Nuri, namazın hazırlık şartlarını tamamladıktan sonra sabah namazının farzını kılmak için niyet eder ve iftitah tekbiri getirir. Ayaktayken Sübhâneke duasını ve Fâtiha suresini okur. Sonra tekbir getirerek rükûya gider. Ardından secdeye gider. İki kez secde ettikten sonra tekrar ayağa kalkar. Fâtiha suresini ve zammı sure okur. Rükûya gider. Tekrar iki kez secde eder ve ardından oturur. Tahiyat, sallı-barık ve Rabbena dualarını okuduktan sonra selam verip namazı bitirir. Daha sonra namazın kılınış şartlarından birini yerine getirmediyini fark eder ve tekrar namaz kılmak için ayağa kalkar.

Buna göre Nuri, namazın kılınış şartlarından hangisini yerine getirmemiştir?

- A) Kıraat B) Kıyam
C) Kâde-i Âhire D) Vakit

7. Peygamberlerin, peygamberliklerini ispat etmek için Allah'ın (c.c.) izni ve yardımıyla yaptıkları olağanüstü olaylar vardır. İnsanın benzerini yapmaktan âciz kaldığı, alışlagelmiş şeylere aykırı olan, bu olağanüstü olaylara mucize denir.

MUCİZELER
Asasıyla denizi ikiye yarmıştır.
Balığın karnında yaşamıştır.
Ateşe atıldığında ateş onu yakmamıştır.


PEYGAMBERLER
Hz. Muhammed (s.a.v.)
Hz. Musa (a.s.)
Hz. Yunus (a.s.)
Hz. İbrahim (a.s.)


Yukarıdaki mucizeler peygamberlerle eşleştirildiğinde hangi peygamber açıkta kalır?


- A) Hz. İbrahim (a.s.) B) Hz. Muhammed (s.a.v.)
C) Hz. Yunus (a.s.) D) Hz. Musa (a.s.)


8. Aşağıdaki öğrenciler sınıfta birbirlerine karşılıklı sorular sorup yarışma yapmaktadır.


Buna göre hangi seçenekteki öğrenci, arkadaşının sorduğu soruya yanlış cevap vermiştir?


A)  Su bulunmadığında alınan abdest hangisidir?


 Teyemmüm abdesti


B)  Her hafta kılınan ve hutbe okunan namaz hangisidir?

 Cuma namazı

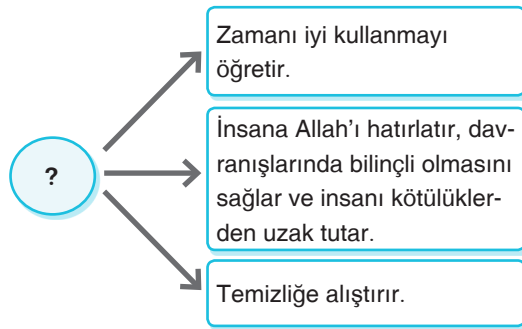
C)  Yılda iki kez cemaatle kılınan namaz hangisidir?

 Bayram namazı

D)  Senin için kılınan fakat senin kılamadığın namaz hangisidir?

 Teravih namazı

9.



Yukarıda “?” ile gösterilen yere hangisi yazılmalıdır?

- A) Namazın Toplumsal Faydaları
- B) Namaza Hazırlık Şartları
- C) Namazın İnsana Kazandırdıkları
- D) Namazın Rükünleri

10. Kunut dualarıyla ilgili;

- I. Yatsı namazının ardından kılınan vitr namazının son rekâtında tekbir alındıktan sonra okunur.
- II. Müslümanlar yaşadıkları herhangi bir mutluluktan dolayı da kunut dualarıyla Rabbine şükredebilir.
- III. Kur'an-ı Kerim'in son surelerinde yer almaktadır.
- IV. İki farklı kunut duası bulunur.

numaralandırılarak verilenlerden hangileri yanlıştır?

- A) Yalnız I.
- B) Yalnız III.
- C) II ve IV.
- D) III ve IV.

Din kültürü ve ahlak bilgisi testi bitti.
İngilizce testine geçiniz.

1. Deneme

İNGİLİZCE

Bu testte 10 soru vardır. Cevaplarınızı cevap kâğıdına işaretleyiniz.

1.



Hello! My name is Peter. I live with my parents in Italy. I love my family very much. My father's name is Jack. He is a doctor. My mother's name is Jessica. I have a sister. Her name is Susan. She is at fifth grade. She goes to school every day. My sister and I go to swimming course every weekend. We really enjoy it.

Which of the following is correct?

- A) Peter's mother is actor.
- B) He dislikes his family.
- C) Peter goes to swimming course on Saturday and Sunday.
- D) Susan is at sixth grade at school.

2.

No, thanks. I never eat meat. I'm a vegetarian.

----?



Which option can not fulfill the dialogue correctly?

- A) Would you like to eat fried chicken, madam?
- B) What about grilled beef? It is yummy.
- C) Why don't you try meatballs with pilaf?
- D) How about eating a pizza full of vegetables?

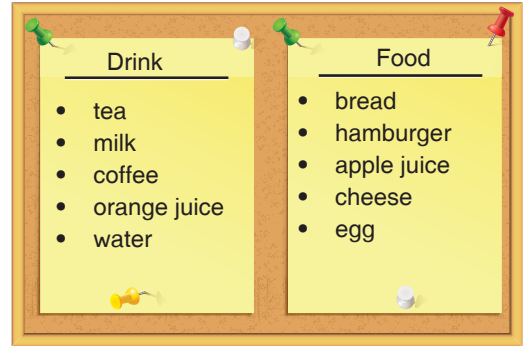
3.

Hi, My name is Gina. I am from Berlin, Germany. Berlin is a very big city. The population is about 4 million. The weather is warmer in summers. But in winter it is freezing cold. It is a more modern city than Wiesbaden. There are more skyscrapers and factories than Bremen. But there are more trees in Münih and you can feel yourself in a forest in the city centre.

How many comparison sentences are there in the text?

- A) 3
- B) 4
- C) 5
- D) 6

4.



Which of them is given wrong above?

- A) milk
- B) apple juice
- C) water
- D) bread

5.

	Chairplane	Ferris Wheel	Roller Coaster
Sophia	😊	😞	😊
Betty	😊	😊	😊
Nicole	😞	😞	😊
Bob	😞	😞	😞

Which option is true according to the chart?

- A) Sophia loves Roller Coaster but not Ferris Wheel.
- B) Bob is not afraid of Roller Coaster.
- C) Nicole loves Chairplane.
- D) Betty doesn't like Ferris Wheel.

6.

Hi, I'm Selena from Russia. In winter, days are shorter and nights are longer here. On shorter days, we can hardly ever see the sun. When it snows, I feel happy because my family let me go out and play snowball with my friends. But also I feel unhappy on stormy and freezing cold days because they don't let me even to look out of the windows. I feel moody some days and I feel energetic and happy other days. August is my favourite month in a year.

Which option doesn't have an answer in the text above?



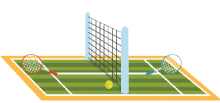

- A) Where does Selena live?
- B) How does she feel when it is very cold?
- C) Which month does she love most?
- D) Can she see the sun in August?

7.


Hello! Tom. I hope you are fine. If you ask me, I am having a great time in Spain. We stay in a five star hotel here. It is in the centre at Madrid. It has got a swimming pool, a tennis court and a football pitch. There are a lot of interesting buildings around our hotel.

John.

Which of the pictures is in NOT mentioned in the passage?

- A) 
- B) 
- C) 
- D) 

8.



Choose the best option to fill in the blank.

- A) What is your school like?
- B) What do you do after school?
- C) What should we do?
- D) What is the weather like?

9.



Which option can we say according to the picture?

- A) She does her homework in the afternoon.
- B) She reads a book in the morning.
- C) She takes a nap after school.
- D) She never sleeps before mid-night everyday.

10.



Which option is not true according to the photo?

- A) They are in an art gallery.
- B) The photos are on the walls.
- C) People are in front of the paintings.
- D) Lucy is between the men.

DAHA FAZLASINI İSTEYENLERE



FOTOKOPİ ÇEKMEK
HAK İHLALIDIR
EYTED
EĞİTİM YATIRIM VE İNŞAAT TEKNOLOJİLERİ ŞİRKETİ

Ostim Mahallesi 1207. Sokak
No: 3/C-D Ostim / ANKARA

Tel: (0312) 395 13 36
Fax: (0312) 394 10 04

[f @isleyenzekeyayinlari](https://www.facebook.com/isleyenzekeyayinlari)

[@isleyenzekeyayinlari](https://www.instagram.com/isleyenzekeyayinlari)

[@isleyenzekaa](https://www.twitter.com/isleyenzekaa)

6. SINIF DENEME SINAVI

SAYISAL BÖLÜM

1.
Deneme

2. OTURUM

DERS ADI	SORU SAYISI	TOPLAM SORU SAYISI	SINAV SÜRESİ (DAKİKA)
Matematik	20	40	80
Fen Bilimleri	20		

AÇIKLAMA

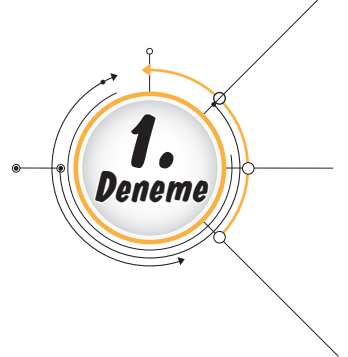
1. Bu kitapçıkta 6. sınıf sayısal bölüm testi bulunmaktadır.
2. Bu kitapçıkta testlerde yer alan her sorunun yalnızca bir doğru cevabı vardır.
3. Cevap kâğıdı üzerindeki kodlamaları kurşun kalemle yapınız.

Adı :

Soyadı :

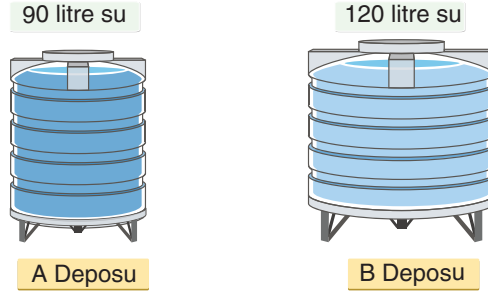
Sınıfı / Şubesi :

Öğrenci No :

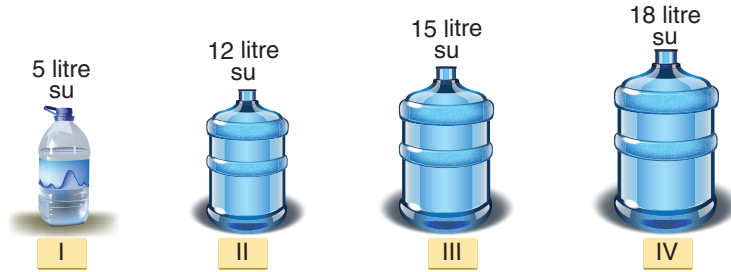


Bu testte 20 soru vardır. Cevaplarınızı cevap kâğıdına işaretleyiniz.

1.



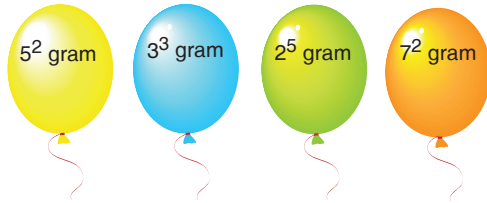
Yukarıda verilen A ve B su depolarının tamamı sırasıyla 90 litre ve 120 litredir.



Yukarıda verilen farklı büyüklüklerdeki damacaların kaç tanesi hem A, hem de B depolarında bulunan suyun tamamını tam dolu hâlde, belli sayıda tam doluyla dolduramazlar?

- A) 1 B) 2 C) 3 D) 4

2. **Bilgi :** Uçan balon içindeki gaz miktarı azalırca, balon gökyüzüne daha hızlı yükselir.



Yukarıda verilen farklı renkteki uçan balonların içindeki gazların ağırlıkları verilmiştir.

Buna göre bu balonlar aynı anda bırakıldığında gökyüzüne en hızlı yükselen ve en yavaş yükselen balonlar sırasıyla hangi seçenekte doğru verilmiştir?

- A) Sarı - Mavi B) Turuncu - Yeşil
C) Sarı - Turuncu D) Turuncu - Sarı


3.

$$\left(\frac{2}{3} - \frac{1}{2}\right) \cdot 2\frac{2}{5} = ?$$

Yukarıda tahtada verilen sorunun cevabını hangi öğrenci doğru bulmuştur?

- A) $\frac{1}{3}$ B) $\frac{3}{5}$
C) $\frac{2}{5}$ D) $\frac{6}{5}$

4.

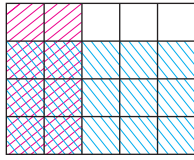


$18\frac{2}{3}$ kg'lık mercimek, $\frac{2}{3}$ kg'lık paketlere doldurularak, 1 paket mercimek de 15 TL'den satılacaktır.

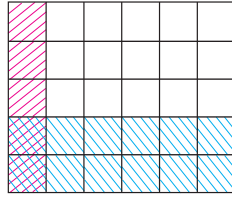
Bu satış sonucunda toplam kaç TL kazanılmış olur?

- A) 280 B) 320 C) 360 D) 420

5.



Şekil - 1



Şekil - 2

Yukarıdaki iki şekilde de ayrı ayrı modellenmiş olan işlemlerin sonuçlarının çarpımı kaçtır?

- A) $\frac{1}{50}$ B) $\frac{2}{25}$ C) $\frac{3}{30}$ D) $\frac{8}{50}$

6.

Biber	$3\frac{2}{5}$	Portakal	$5\frac{1}{10}$
Domates	$4\frac{1}{2}$	Elma	$3\frac{5}{3}$
Salatalık	$2\frac{5}{6}$	Muz	$\frac{8}{9}$

Şükran Hanım pazara gidip alışveriş listesindeki meyve ve sebzelerin hepsini alıyor.

Buna göre Şükran Hanım'ın alışveriş sonunda aldığı ürünlerin toplam kilogramı yaklaşık kaçtır?

- A) 20 B) 21 C) 22 D) 24

7.

▲, ■ ve ● sembolleri +, -, : ve - işlemlerinden herhangi birini temsil etmektedir.

Örneğin; $27 \bullet 3 = 9$ 'dır.

$$8 \blacksquare 4 = 12$$

$$120 \blacktriangle 2 = 240$$

$$150 \blacksquare 12 \bullet 3 \blacktriangle 2 = ?$$

Buna göre bu sembollerden oluşan yukarıda soru işareti ile gösterilen işlemin sonucu kaçtır?

- A) 108 B) 139 C) 158 D) 174

8.

Ürün	Adet	Bir Adet Fiyatı
Kalem	2 deste	2 TL
Silgi	3 düzine	1 TL

Kırtasiyeci Osman Bey, yukarıda tabloda verilen ürünleri belirtilen adet ve fiyat kadar toptancısından almıştır. Bu ürünlerin satışını ise; kalemleri tanesi 3 TL'den, silgileri ise tanesi 2 TL'den satarak tüm kalem ve silgilerini satmıştır.

Buna göre Osman Bey'in bu satıştan elde ettiği kâr kaç TL'dir?

- A) 48 B) 52 C) 54 D) 56

9.

İller	Sıcaklık
Erzurum	-12 °C
Malatya	-8 °C
Ankara	-10 °C

Yukarıda verilen tabloda, 3 şehrin Ocak ayı sıcaklık ortalamaları verilmiştir.

Buna göre aşağıdakilerden hangisi doğrudur?

- A) Hava sıcaklığı en fazla Malatya'dadır.
B) Erzurum, Ankara'dan daha sıcaktır.
C) Malatya, Erzurum'dan daha soğuktur.
D) En soğuk il Ankara'dır.